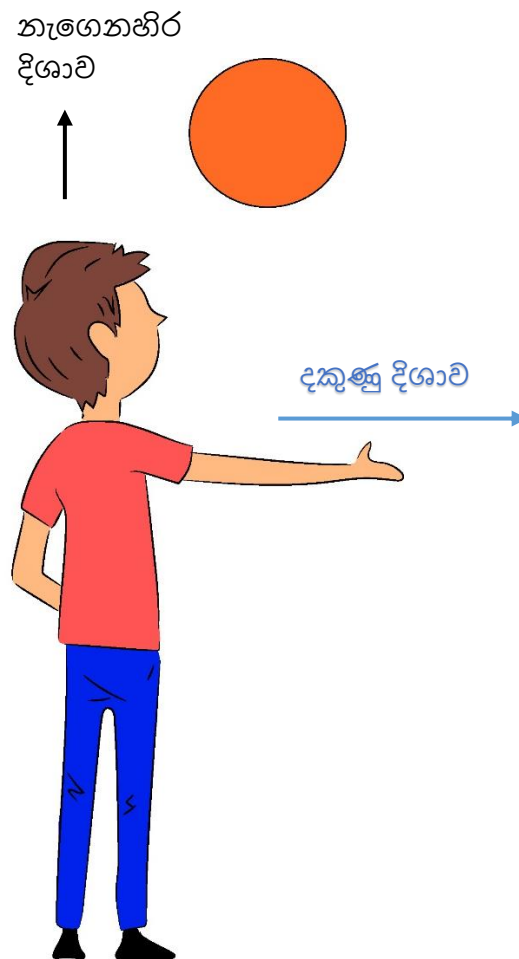


4 ශ්‍රේණිය - ගණනය - දිශා

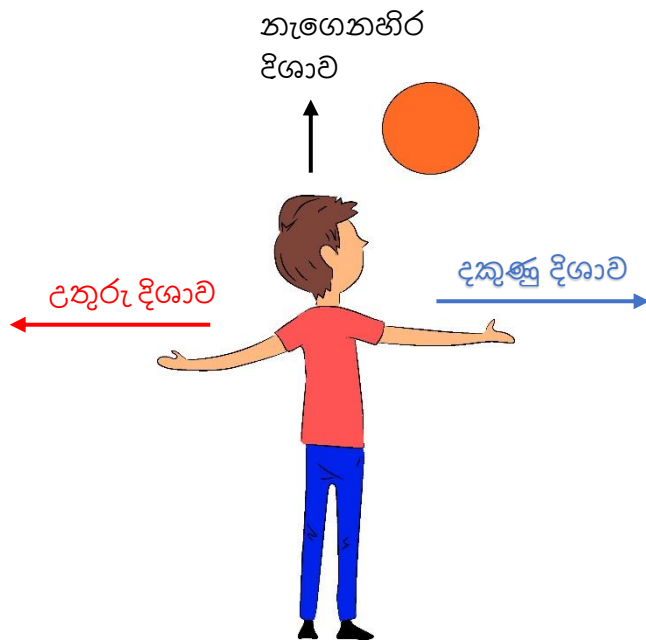
ක්‍රියාකාරකම 1

පෙරවරු 8.30 - 9.30 අතර වේලාවක ඔබ එළිමහනට යන්න. ඔබ හිරු නැග එන දිශාවට මුහුණලා සිට ගන්න. කෙළින්ම හිරු දෙස නොබලන්න.

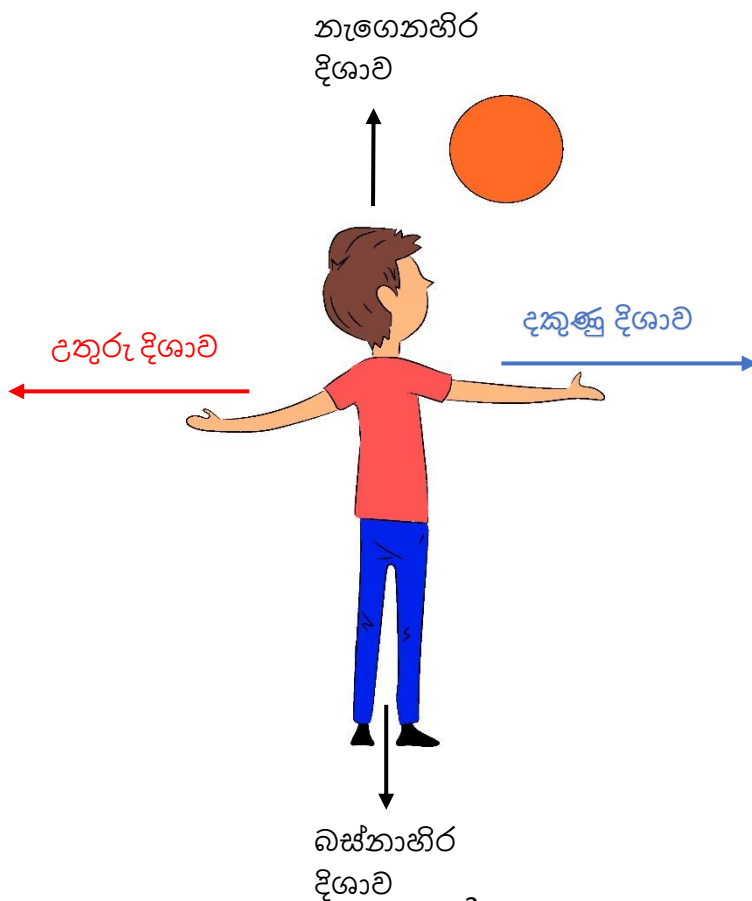
- හිරු නැග එන දිශාව නැගෙනහිර බව මතකයේ තබාගන්න.
- දැන් ඔබ දකුණු අත රූපයේ දැක්වෙන ලෙස දිගහරින්න.



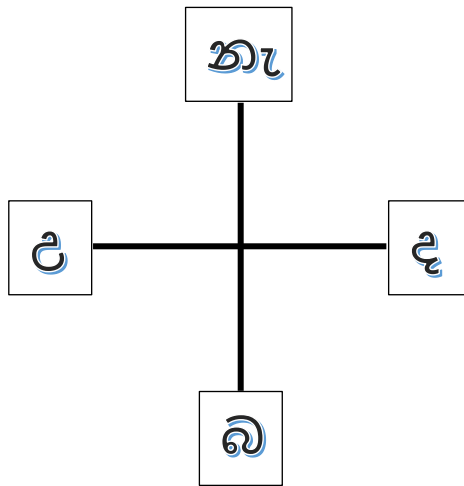
- වම් අතද එසේ දිගුකරන්න.



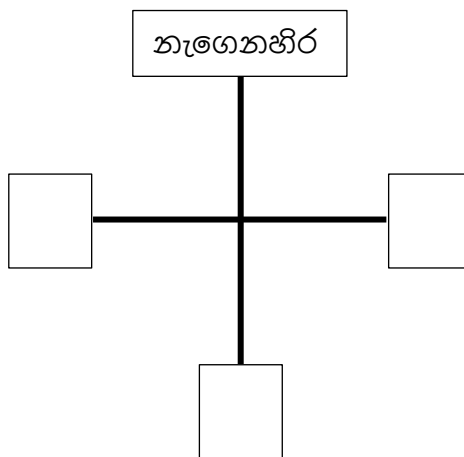
- දකුණු දිශාවට ප්‍රතිවිරුද්ධ දිශාව උතුරු දිශාව වේ.
- මෙලෙසට නැගෙනහිර දිශාවට ප්‍රතිවිරුද්ධ දිශාව බස්නාහිර දිශාව වේ. එනම් ඔබේ පිටුපස පැත්ත බස්නාහිර දිශාවයි. මේ අනුව ප්‍රධාන දිශා හතර හොඳින් හඳුනාගන්න.



- දැන් මිදුලේ ප්‍රධාන දිශා හතරට යොමුවන සේ එකිනෙක කැපීයන රේඛා දෙකක් අඳින්න.



- පත්‍රිකා හතරක ප්‍රධාන දිශා හතරෙහි නම් ලියා, නිවැරදි දිශාවෙහි එය තබන්න.




- මෙය නැවත නැවත කීපවරක් කරන්න.


අනතුරුව දුවේ, යම්, යම් වස්තු හතරක් ගන්න.

උදා:- බෝලයක්, පින්තක් ආදී ඔබ ලඟ ඇති දෙයක්.

එම වස්තූන් ප්‍රධාන දිශා හතරෙහි තබන්න. මැදින් බෝනික්කෙක් වැනි දෙයක් තබන්න.



ඔබම විවිධ ප්‍රශ්න අසමින් තවදුරටත් දිශා හතර ගැන හොඳ අවබෝධයක් ලබාගන්න.



1. මැද සිටින්නේ කවරෙක්ද?
2. ඇයට නැගෙනහිර දිශාවෙන් තිබෙන්නේ කුමක්ද?
3. ඇයට බස්නාහිර දිශාවෙන් තිබෙන්නේ කුමක්ද?
4. ඇයට දකුණු දිශාවෙන් තිබෙන්නේ කුමක්ද?
5. ඇයට උතුරු දිශාවෙන් තිබෙන්නේ කුමක්ද?